

SCHÉMA MUZEA

Prohlédněte si následující plánec expozičních muzea. Snažte se zapamatovat si umístění jednotlivých expozičních v patrech. Potom plánec zakryjte a zkuste určit jednotlivé expoziční popaměti, nejlépe je zapište na papír.

4. patro vlevo
expoziční metalurgie

4. patro vpravo
expoziční mineralogie

3. patro vlevo
expoziční zoologie

3. patro vpravo
expoziční archeologie

2. patro vlevo
expoziční botaniky

2. patro vpravo
expoziční paleontologie

1. patro vlevo
expoziční numismatiky

1. patro vpravo
expoziční etnografie

Přízemí vlevo
expoziční antropologie

Přízemí vpravo
expoziční geologie

DOPLŇTE OBRÁZEK DO RČENÍ I.

Do chybějících částí rčení a úsloví doplňte obrázek tak, aby rčení dávalo smysl.

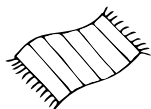
Má hluboko do ...



Chlubit se cizím ...



Leje jako z ...



Je jako páté ... u vozu.

Plakat na nesprávném ...

Zahrávat si s ...



Jako ... z čistého nebe.

Házet do jednoho ...

Zavolat si někoho na ...


Vylít vaničku i s ...



Ukázat ...

Přijít s ... po funuse.


Dát ...



Zvednout ...

Tahat za ...

Je psáno ve ...



Říci v ...