

# TEST 4

1. Který obrázek nepatří mezi ostatní?



A



B



C



D



E



F



G



H



I



J



K



L

2. Vyřešte anagram v závorce tak, abyste doplnili citát Henryho Forda, přičemž diakritika dozná změny.

Neúspěch je jen další příležitost začít znovu  
a (TICHÝ REJ). *Henry Ford*

3. Spárujte osm daných slov tak, aby vznikla čtyři sou-  
sloví psaná se spojovníkem.

PROPAN, RH, ALFA, ČÍŠNÍK, BUTAN  
FAKTOR, KUCHAR, ZÁŘENÍ

4. Mitzi dnes může utratit 800 dolarů. Za oblečení  
utrátí dvě pětiny z této částky, za šperky utratí 0,425  
z 800 dolarů a vypíše šek na 240 dolarů za nové  
hodinky. Jaká je její finanční situace na sklonku dne?

5. Které slovo má opačný význam než slovo  
MINIMUM?

OPTIMUM, MAXIMUM, INDIVIDUUM,  
KONTINUUM, REZIDUUM

6. Které číslo patří na místo otazníku?

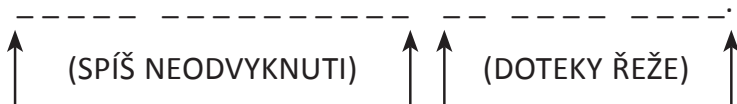
5	3	8	4	9	6	8
8	6	6	1	8	4	?
3	2	7	6	8	7	3

7. KALIBR, SCHODY, ŠERIFE!, ?


Které dívčí jméno bude následovat v řadě?

- a) JOHANA      b) AGATHA      c) ROMANA  
d) RŮŽENA


8. Vyřešte dva anagramy, abyste sestavili velmi známé přísloví (diakritika bude mírně jiná).



9. Jestliže tento obrazec vystřihneme a poskládáme jako kostku, vznikne jedna z vyobrazených kostek. Která?



A



B



C



D

10. Jestliže „9Ž K“ znamená „9 životů kočky“, rozluštíte, co znamená „14K Č“?

11. Pomocí nápověd najděte čtyři slova o šesti písmenech. Znak XYZ zde zastupují v každém slově se opakující stejná tři písmena.

X Y Z \_ \_ \_

*Pomůcka:* nezbytní účastníci  
horolezeckých expedicí

\_ X Y Z \_ \_

*Pomůcka:* ten, kdo zajme jiného  
člověka a odveze ho pryč

\_ \_ X Y Z \_

*Pomůcka:* sklon konat dobro

\_ \_ \_ X Y Z

*Pomůcka:* tác na pitivo a jiné  
pochutiny


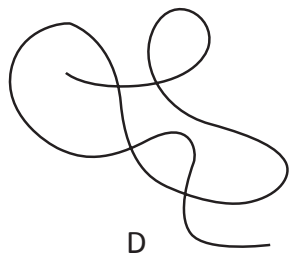


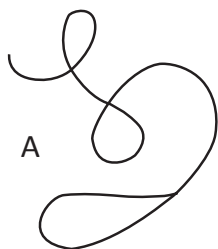
12. Které číslo patří na místo otazníku?



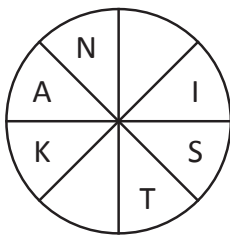
13. V této mřížce se pouze jednou objevuje slovo SOLO v nepřerušené linii. Může být napsáno svisle, vodorovně, úhlopříčně, zprava doleva i zleva doprava. Najdete je?

S	O	L	S	L	O	S	O
S	O	S	O	S	O	O	S
O	O	S	O	S	L	O	O
O	S	O	L	S	O	O	O
S	O	S	L	S	L	L	O
L	S	L	O	O	S	O	S
O	O	O	S	S	O	O	L
O	S	L	L	O	S	L	O

14. Který obrázek nepatří mezi ostatní?



15. Najděte slovo o deseti písmenech. Čtěte po směru hodinových ručiček a doplňte chybějící písmena. Hledané slovo začíná a končí stejnými dvěma písmeny.



16. Každý z nás má \_\_\_\_\_ 1 \_\_\_\_\_ využít své \_\_\_\_\_ 2 \_\_\_\_\_ k lepšímu užítku, pokud budeme \_\_\_\_\_ 3 \_\_\_\_\_ nové cesty, zkušenosti a \_\_\_\_\_ 4 \_\_\_\_\_ dobrodružství.

Vyberte vhodná slova z následujícího výčtu tak, abyste smysluplně doplnili výše uvedenou větu.

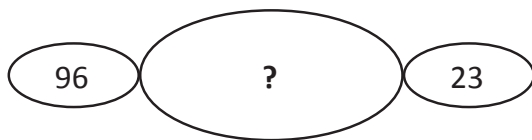
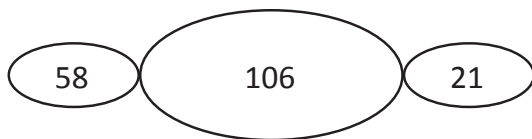
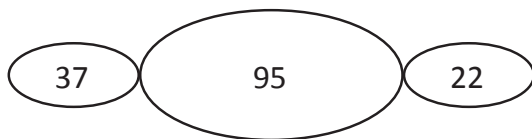
1. výsada, smysl, možnost, volba, fantazie
2. počítače, peníze, schopnosti, rozum, vitalita
3. zkoumat, hledat, připravovat, šlapat, křížovat
4. nebezpečná, moderní, malá, nenápadná, prožitá



17. Doplňte dívčí jméno do třetího řádku tabulky tak, abyste dokončili všechna slova o třech písmenech.

Š	M	M	O	Č	V	P	T
E	Š	O	K	I	Š	U	M

18. Které číslo patří na místo otazníku?



## 19. POHRABÁČ (KÁNON) KNIHOVNA


Použijte pravidla, podle kterých je sestaven řádek výše k tomu, abyste našli slovo v závorce:

PORCELÁN ( \_ \_ \_ \_ \_ ) ZKUŠEBNA

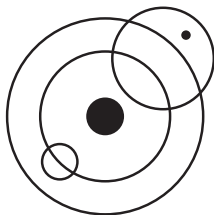
20. Které velmi známé rčení je zakódováno v zadání této úlohy?

P	O	L	I	E	K
P	O	I	B	E	K
P	O	L	I	B	K
V	Z	E	T	U	P
P	O	L	I	B	E
V	E	S	T	U	P

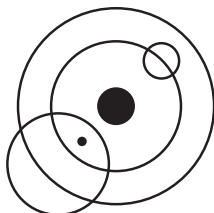
21. Jaký je součet puntíků na opačných stranách této kostky?



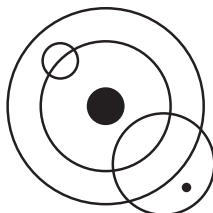
22. Který obrázek nepatří mezi ostatní?



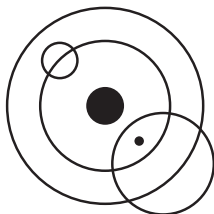
A




B



C



D



E

23. Které z následujících slov není anagramem nějaké národní měny (může být i historická)?

- a) SOUDCE
- b) BRAL IVO
- c) BRNO DAM
- d) ZALET QU
- e) SICE SESTRU
- f) HADR MI

**24.** Najděte jednoslovný anagram v:

PODAL ŽOK

**25.** Spojte dohromady čtyři skupinky tvořené třemi písmeny tak, abyste dostali dvě slova o šesti písmenech.

NAT – MAL – ILE – SOL – IDL – INA – KAR – KOŠ

**26.** Vyplňte prázdná místa tak, abyste dostali tři tance.

\_ T \_ E \_ Y \_ K \_



\_ E \_ U \_ T

\_ O \_ O \_ É \_ A

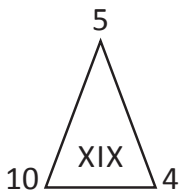
**27.** Která dvě slova mají opačný význam?

KLIDNÝ, STRUČNÝ, POHODLNÝ, PROSTORNÝ,  
NEPOSEDNÝ, VYCHRTLÝ

28. Když správně doplníte písmena do prázdných úseků kruhů, najdete dvě synonyma. Slova nemusí být psána ve směru hodinových ručiček, ale písmena ve slovech jdou po sobě tak, jak se hledaná slova píší. Najdete je?



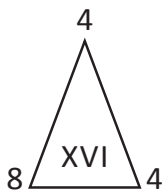
29. Které římské číslo patří na místo otazníku?



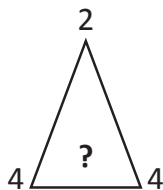
A



B



C



D

**30.** Které číslo patří na místo otazníku?

7   17    $8\frac{1}{2}$     $14\frac{1}{4}$    10    $11\frac{1}{2}$    ?

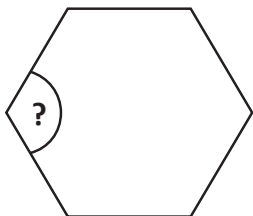
**31.** Co znamená slovo MANTILA?

- a) KALHOTY
- b) ČLUN
- c) ŠATY
- d) OSTRUŽINA
- e) PŘEHOZ

**32.** Existuje pouze pět pravidelných těles se symetrickými stěnami. Které z uvedených má 20 stěn?

- a) IKOSAEDR
- b) DODEKAEDR
- c) KRYCHLE
- d) TETRAEDR
- e) OKTAEDR

33. Kolik stupňů má tento úhel?



- a)  $105^\circ$
- b)  $110^\circ$
- c)  $115^\circ$
- d)  $120^\circ$
- e)  $130^\circ$

34. MNÍK se má k RYBĚ stejně, jako se má KARAVELA k:

- a) TRUBADÚROVI
- b) KARAVANĚ
- c) CIRKUSU
- d) VOZIDLU
- e) LODI

35. Co je  $x$ ?

$$\frac{4 \times 2 - 6}{7 - 4 \times 2} = x$$

- 36.** Které slovo může být doplněno za daná slova tak, aby vytvořilo spolu s nimi slova nová?

MALÍŘ

UČITEL

ZLO ( \_ \_ \_ )

PO

SEKRETÁŘ

- 37.** HIPOFOBIE se má ke KONÍM stejně, jako se má AILUROFOBIE ke:

a) SLONŮM

b) LVŮM

c) MYŠÍM

d) ŽRALOKŮM

e) KOČKÁM

- 38.** Dokončete slovo.

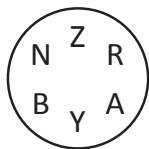
\_\_ H O S T \_ \_ \_ \_ \_



39. Písmena v jednom ze čtyř kruhů nelze uspořádat do slova o šesti písmenech. Který kruh to je?



A



B



C



D

40. NEKTAR se má k NÁPOJI stejně, jako se má AMBROZIE k:

- a) LÉKU
- b) VČELÁM
- c) ŘECKU
- d) KVĚTINĚ
- e) POTRAVĚ