






2. ŠKRTNI PŘEDMĚT, KTERÝ DO ŘADY NEPATŘÍ.



18. KARKULKA JDE ZA BABIČKOU.

ŘÍKEJ, CO JE ZA KARKULKOU, PŘED KARKULKOU, V LESE, VPRÁVO VLEVO OD CESTY.



38. PŘEČTI ČÍSLICE OD 1 DO 6 A ZPĚT OD 6 DO 1.

UKAŽ POČET NA PRSTECH.

JMENUJ ČÍSLICE VĚTŠÍ NEŽ 3, MENŠÍ NEŽ 6 APOD.

6 0 0 0 0
6 0 0 0 0

1 2 3 4 5 6

V KAŽDÉ ÚLOZE MÁŠ 6 BONBÓNŮ. ROZDĚL JE RŮZNÝMI ZPŮSOBY NA 2 TALÍŘKY.

